


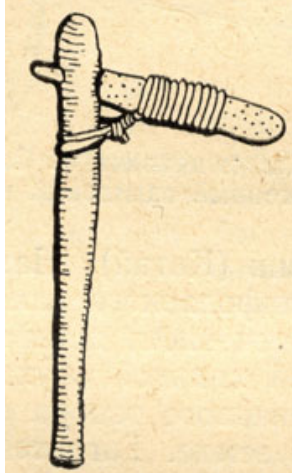



Вопросы по истории татарского народа и Татарстана

8 класс

1. Впишите в таблицу в хронологическом порядке древнейшие исторические периоды каменного века и дайте им краткую характеристику

№	Название	Период	Краткая характеристика
1.			
2.			
3.			
4.			

2. Назовите изображенные на рисунках орудия труда и оружие, которым пользовались первобытные люди?

		
А	Б	В
		
Г	Д	

А	
Б	
В	
Г	
Д	

Выберите один из правильных ответов (Задания №3 - №11).

3. При каком хане в Золотой Орде была проведена перепись податного населения?

- А) Батый
- Б) Сартак
- В) Берке

Ответ _____

4. Столицей Волжской Булгарии в середине XII в. был город:

- А) Болгар
- Б) Сувар
- В) Биляр
- Г) Джукетау

Ответ _____

5. В период Золотой Орды было написано произведение «Нахдж ал-Фарадис», его автором был:

- А) Кол Гали
- Б) Сейф Сараи
- В) Махмуд ал-Булгари
- Г) Мухамадьяр

Ответ _____

6. При каком хане ислам стал официальной религией Золотой Орды?

- А) Берке
- Б) Узбек
- В) Батый

Ответ _____

7. В каком году была образована Казанская губерния?

- А) 1708 г.
- Б) 1714 г.
- В) 1718 г.
- Г) 1719 г.

Ответ _____

8. Указ о привлечении всех татарских мурз и служилых татар к корабельным работам вышел в:

- А) 1709 г.
- Б) 1718 г.
- В) 1728 г.
- Г) 1817 г.

Ответ _____

9. Автором первого татарского романа «Хисаметдин менла», опубликованного в 1886 году, являлся:

- А) Садри Максуди
- Б) Фатих Карими
- В) Муса Акъегет
- Г) Загир Бигиев
- Д) Шигабутдин Марджани

Ответ _____

10. В 18 веке этот город стал центром для налаживания торгово-экономических отношений с казахами и со Средней Азией, правительство намеревалось привлечь к торговле в этом городе русское купечество из центральных районов России, Поволжья и Сибири, а также купцов из Ташкента, Бухары и Восточного Туркестана. Этот город должен был включиться в торговлю с восточными рынками, Китаем и Индией. О каком городе идет речь?

- А) Астрахань
- Б) Симбирск
- В) Нижний Новгород
- Г) Оренбург
- Д) Казань

Ответ _____

11. Возникновение Тюркского каганата связывают с этим родом. По легенде, праматерью рода была волчица, которая выкормила мальчика из истребленного племени. От них родилось десять сыновей, впоследствии женившиеся на девушках из Турфанского оазиса в Восточном Туркестане. Один из внуков волчицы получил имя, означавшее оттенок синего цвета. О каком роде идет речь?

- А) Сюнну
- Б) Ашины
- В) Авары
- Г) Гунны

Ответ _____

12. Соотнесите татарские ханства с годами их завоевания (покорения):

Даты	Татарские ханства
А) 1552	1) Крымское ханство
Б) 1557	2) Сибирское ханство
В) 1783	3) Казанское ханство
Г) 1598	4) Астраханское ханство

Ответ:

А	Б	В	Г





13. Сопоставьте приведенные ниже биографии и фотографии, назовите имена этих деятелей.

1. Родился 26 апреля 1886 года в д. Кошлауч Казанской губернии. Поэт, литературный критик, публицист. Сын приходского муллы. Осиротел в 4 года. Учился в медресе «Мутыгия» в Уральске. С 1907 года жил в Казани. Умер в 1913 году после долгой болезни.

2. Родился 1 января 1886 года в Казани. Сын приходского муллы. Писатель, литературный критик. Учился в медресе «Мухаммадия». Работал редактором детского журнала «Тарбиятел-атфаль» в Москве. Автор повести «Хаят». В 1907 году его разбил паралич, до конца своих дней он передвигался на инвалидной коляске. Умер в 1926 году.

3. Родился 22 февраля 1878 года в д. Кутлушкино Чистопольского уезда Казанской губернии. Писатель, публицист, общественный и политический деятель. Сын приходского муллы. Учился в медресе «Касимия» в Казани, в Казанской татарской учительской школе. Автор романа «Исчезновение через двести лет». После 1917 г. эмигрировал в Турцию. Умер в 1954 году в Анкаре.

4. Родился 28 марта 1887 года в д. Султан-Муратово Стерлитамакского уезда Уфимской губернии. Писатель, публицист, ученый, государственный деятель. Сын муллы. Учился в медресе «Валия» в Оренбурге. Автор трудов по татарской филологии и истории. Умер в 1938 году. Его именем назван научно-исследовательский институт в Казани.

	<p>А.</p>		<p>Б.</p>
	<p>В.</p>		<p>Г.</p>

Ответ:

Биография	Рисунок (А,Б,В,Г)	Имя
1.		
2.		
3.		
4.		

14. До прихода к власти Екатерины II на территории Российской империи существовали две модели государственно-исламских отношений. Назовите их географические рамки и основные признаки.

Ответ _____

15. Согласно «Положению о губерниях» 1775 г. Казанская губерния состояла из 13 уездов, назовите их и расположите в таблице в алфавитном порядке:

1.	
2.	
3.	
4.	
5.	
6.	
7.	
8.	
9.	
10.	
11.	
12.	
13.	

16. Расставьте казанских ханов в хронологическом порядке по годам их правления

1.	
2.	
3.	
4.	
5.	
6.	
7.	
8.	
9.	
10.	
11.	
12.	

13.	
14.	

17. Перед Вами отрывки из различных источников, относящихся к истории татарского народа X-XV вв. Расположите их в хронологическом порядке и укажите, к какому столетию относится каждое из них и о каком государстве идет речь.

А) Они расселены на берегу реки, называемой Итиль, которая впадает в Хазарское море. Они между ал-хазар и ас-сакалиба. Их царя зовут Алмиш, он принял ислам.

Их земля – леса и густые лесистые заросли. Их [составляют] три группы. Одна – Барсула, другая группа – Асгал, третья – Булкар. Все они живут в одном месте.

Хазары торгуют и обмениваются с ними.

Б) (Орда или) Царство ..., город и крепость того же имени расположены на Волге, на дальнем (северном) берегу реки, почти в семидесяти немецких милях ниже Нижнего Новгорода; с востока и юга по Волге (вниз по Волге) это царство ограничено пустынными степями; с северо-востока с ними граничат татары, зовущиеся шейбанскими (Schibanski) и кайсацкими (Kosatzki). Город Казань отстоит от государевой крепости Вятки на шестьдесят немецких миль. Слово «казань» по-татарски значит «кипящий [медный] котел». Эти татары – культурнее других, так как они и возделывают поля, и живут в домах, и занимаются разнообразной торговлей (и редко воюют.)

В) Наконец прибыли мы в гавань эль-Кираш, принадлежащую к пустынной стране Кипчацкой (Kifjak). Степи ее покрыты зеленью и плодоносны, но только нет на них ни деревьев, ни лесов, ни холмов. Обитатели жгут траву. Путешествуют по сей степи в телегах называемых араба. Пространство степи будет на полгода пути, и половина ее принадлежит Султану Мугаммеду-Узбеку Хану, а другая неверным... Потом отправился я на арабе в город Эль-Сарай, местопребывание Мугаммеда-Узбека. Трава на степях служит здесь пищею многочисленным стадам.

Отрывок (А,Б,В)	Название государства

18. О каком документе и событиях идет речь в данном отрывке? Укажите год издания документа.

Содержатель войск, светлый государь мира, я, великий воитель, самодержавный властелин всех лучших и простых людей разных стран и областей, во все времена державший их в своих руках и воле... Тех кто... честью верит мне, таких людей, конечно, я буду жаловать вашими землями, водами, рыбными ловлями, покосами, пашнями, лесом, порохом, деньгами, свинцом и хлебом, солью и прочим.

Кто не повинуется и противится: боярин и генерал, и майор, и капитан, и ныне – голову рубить... В одно время они вас ели, лишали моих рабов свободы, сейчас вы их рубите, если не подчиняются. Кто повинуется, тот не противник, не трогайте. Кто признает меня, кто нашел прямой путь ко мне, пусть несет воинскую службу. Противников вешать и резать буду. Не оставайтесь в неведении, пожалуйста.

... Условлено, чтобы из деревни в деревню, из улицы в улицу, не задерживая нисколько, передавать (копию). Кто раб боярский и крестьянин в неволе у злодеев, сегодня мною освобожден, кто в тюрьме, выпускается.

Ответ:

Название документа _____

Год _____

19. Внимательно прочитайте отрывок из сочинения Матвея Меховского «Трактат о двух Сарматиях» и вставьте пропущенные слова.

«Титулы у татар примерно такие. ____ (1), как сказано выше, – царь, ____ (2) – сын царя, ____ (3) – герцог, ____ (4) – сын герцога, ____ (5) – знатный или советник, ____ (6) – сын знатного, ____ (7) – верховный жрец, частный же человек – ____ (8).

- А) кси
- Б) султан
- В) бей
- Г) Хан
- Д) олбоадулу
- Е) сеид
- Ж) мурза
- З) олбоуд

Ответ:

1	2	3	4	5	6	7	8

20. Что послужило причиной значительного сокращения числа «уклонистов» от военной службы в Казанской губернии в 1874 г.?

Ответ:

21. Этот известный в Казани человек был врачом, краеведом, журналистом, в его доме проводились литературные вечера, он принимал А.С. Пушкина в Казани. Ему установлен памятник на берегу Казанки. Назовите его.

Ответ: _____

22. Укажите три причины учреждения Оренбургского магометанского духовного собрания.

1. _____

2. _____

3. _____

23. Определите события, произошедшие в указанные годы в Казани:

№п/п	Дата	Событие
1.	1708 год	
2.	1718 год	
3.	1774 год	
4.	1799 год	
5.	1804 год	

24. Соотнесите изображения зданий в Казани с их названиями

1. Черная палата	
------------------	--

2. Казанская духовная семинария	
3. Галеевская мечеть	
4. Богоявленский собор	
5. Петропавловский собор	
6. Мечеть Марджани	
7. Главное здание адмиралтейской конторы	
8. Тайницкая башня Кремля	




А



Б




В



Г




Д



Е



Ж



З

25. Что изображено на приведенной ниже карте? Какова была его роль в эпоху раннего средневековья для народов Поволжья и Европы?



Ответ:

26. Перед вами 4 портрета известных личностей 18 века. Заполните таблицу, правильно указав, кто именно изображен на том или ином рисунке.

Личность	изображение
----------	-------------

	(буква)
	А
	Б
	В
	Г



27. Перед Вами описание трех праздников народов Поволжья. Укажите их названия.

А) В народном календаре православных славян это один из первых праздников урожая. С него, согласно поверьям, природа разворачивалась к осени и к зиме. В этот день люди по традиции угощают яблоками родных, близких, а также сирот, неимущих, не забывая и про уснувших вечным сном предков

Б) В этот праздник татарские юноши и девушки за работой по оципыванию гусей демонстрируют свое проворство, умение, сноровку, поют песни, присматриваются друг к другу для того, чтобы в дальнейшем строить отношения и создавать семьи

В) Традиционный праздник, отмечаемый в течение недели перед Великим постом, сохранивший в своей обрядности ряд элементов славянской мифологии.

28. Расставьте в хронологической последовательности (начиная с 1 января) традиционно отмечаемые праздники татарского народа.

А) Джиен

Б) Нардуган

В) Науруз

Г) Сабан туй

Д) Гусиные помочи (Каз Омәсе)

№	Праздник (буква)
1	
2.	

3.	
4.	
5.	

29. Какое здание изображено на рисунке, где оно располагается? Назовите дату его постройки, какого его значение в истории нашего края, с именами каких исторических деятелей и каких исторических событий оно связано?



Дата _____

Значение _____

Имена и события _____
